



# केन्द्रीय रिजर्व पुलिस बल CENTRAL RESERVE POLICE FORCE

Test Date	01/03/2023
Test Time	9:00 AM - 10:30 AM
Subject	Head Constable Ministerial

Section : Hindi Language

Q.1 विकल्पों में से उपयुक्त तत्सम युक्त शब्द छाँटकर वाक्य पूर्ण कीजिए।  
\_\_\_\_\_ में बर्दाशत नहीं कर पाता।

- Ans
- A. घृत
  - B. दंत
  - C. ग्रंथि
  - D. धूम



INDIA

Question ID : 630680179338

Status : Answered

Chosen Option : D

Q.2 वाक्य विन्यास की दृष्टि से सही वाक्य पहचानिए।

- Ans
- A. समय का सदुपयोग द्वारा मनुष्य देवता बन जाता है।
  - B. वे मित्र होकर भी एक - दूसरे को संदेह की दृष्टि से देखते हैं।
  - C. तितली के पास सुंदर पंख होते हैं।
  - D. गत रविवार को वह मुंबई जाएगा।

Question ID : 630680179336

Status : Answered

Chosen Option : B

Q.3 निम्न वाक्य में उचित पद भरिए।  
इस कार्य में उन्होंने योगदान किया, वह \_\_\_\_\_ है।

- Ans  A. असहनीय  
 B. प्रभावहीन  
 C. निंदनीय  
 D. सराहनीय

Question ID : 630680179341  
Status : Answered  
Chosen Option : D

Q.4 निम्न में से प्रेरणार्थक क्रिया शब्द है।

- Ans  A. जीना  
 B. गिरना  
 C. हथियाना  
 D. जिलवाना

Question ID : 630680177121  
Status : Answered  
Chosen Option : D

Q.5 निम्न वाक्य को तुर्की शब्द से पूर्ण कीजिए।  
इस षडयंत्र का \_\_\_\_\_ नहीं मिला।

- Ans  A. हौसला  
 B. फीता  
 C. सुराग  
 D. शिकायत

INDIA

Question ID : 630680179325  
Status : Answered  
Chosen Option : C

Q.6 निम्न में से कौन-सा वाक्य तात्कालिक वर्तमान का उदाहरण है।

- Ans  A. बूढ़ा आदमी अपनी किस्मत पर रो रहा होगा।  
 B. बूढ़ा आदमी अपनी किस्मत पर रो रहा है।  
 C. बूढ़ा आदमी अपनी किस्मत पर रो चुका है।  
 D. बूढ़ा आदमी अपनी किस्मत पर रो रहा था।

Question ID : 630680177106  
Status : Answered  
Chosen Option : B

Q.7 कौन – सा वाक्य सामान्य भूतकाल जैसा प्रतीत होता है, पर वह वर्तमान काल का होता है, भूतकाल का नहीं ?

- Ans  A. वह गाँव जा चुकी थी।  
 B. कवि जिस तरफ झुक गए, झुक गए।  
 C. वह पढ़ता तो उसे अंक मिलता।  
 D. गीताजलि अच्छी हिंदी जानती है।

Question ID : 630680179352  
Status : Answered  
Chosen Option : D

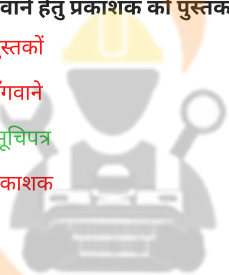
Q.8 निम्न विकल्पों में से शुद्ध वाक्य विन्यास छाँटिए।

- Ans  A. माँने बच्चा को खेलते देखा।  
 B. लड़का भूखों से बेचैन है।  
 C. बिल्ली छत पर से कूद पड़ी।  
 D. कानों सुनी बात पर विश्वास नहीं करना चाहिए।

Question ID : 630680179331  
Status : Answered  
Chosen Option : D

Q.9 वर्तनी की दृष्टि से दिए गए वाक्य का कौन-सा शब्द अशुद्ध है।  
पुस्तकें मँगवाने हेतु प्रकाशक को पुस्तकों का सूचिपत्र दे दें।

- Ans  A. पुस्तकों  
 B. मँगवाने  
 C. सूचिपत्र  
 D. प्रकाशक



INDIA

Question ID : 630680177056  
Status : Answered  
Chosen Option : C

Q.10 उपरोक्त मुहावरे का अर्थ विकल्पों में से चयन कीजिए।  
अंजर – पंजर ढीला करना –

- Ans  A. बहुत प्रेम करना  
 B. बदन में दर्द होना  
 C. क्रोध से लाल हो जाना  
 D. खूब मारना

Question ID : 630680179302  
Status : Answered  
Chosen Option : D

Q.11 'परम आश्चर्य' के अर्थ में प्रयुक्त होने वाला शब्द है।

- Ans  A. चमत्कार  
 B. आश्चर्य  
 C. विस्मय  
 D. भय

Question ID : 630680177049  
Status : Answered  
Chosen Option : A

Q.12 उपरोक्त वाक्य में पूर्ण क्रिया सूचक कृदंत शब्द प्रयोग कीजिए।  
साँप मुँह में मेंढक \_\_\_\_\_ पड़ा था।

- Ans  A. दबाया  
 B. चलते  
 C. रखते  
 D. दबाए

Question ID : 630680179328  
Status : Answered  
Chosen Option : D

Q.13 उपरोक्त वाक्य में रेखांकित पद का कारक बताइए।  
गुरु ही शिष्य को ज्ञान देता है।

- Ans  A. संप्रदान कारक  
 B. संबंध कारक  
 C. कर्ता कारक  
 D. करण कारक

Question ID : 630680179357  
Status : Answered  
Chosen Option : B

Q.14 'निर्माण' शब्द का विलोम चयन कीजिए।

- Ans  A. निषेध  
 B. अवरोहण  
 C. अकल्याण  
 D. विध्वंस

Question ID : 630680179290  
Status : Answered  
Chosen Option : D

Q.15 वाक्य के रिक्त स्थान के लिए उपयुक्त विकल्प चुनकर वाक्य पूर्ण करें।  
छोटे बच्चों की प्यारी शरारतें उनसे \_\_\_\_\_ करने पर विवश कर देती हैं।

- Ans  A. प्रेम  
 B. भक्ति  
 C. घृणा  
 D. आसक्ति

Question ID : 630680177079  
Status : Answered  
Chosen Option : A

Q.16 उपरोक्त वाक्य में उपयुक्त शब्द प्रयोग कीजिए।  
\_\_\_\_\_ से हम डरते नहीं।

- Ans  A. कुंतल  
 B. कुजन  
 C. कपिश  
 D. कूजन

Question ID : 630680179322  
Status : Not Answered  
Chosen Option : --

Q.17 वाक्य रचना संबंधी त्रुटि संशोधन कीजिए।  
पूंजीपतियों द्वारा पैसों की वजह से सब अधिकार अपने हाथ ले लिए।

- Ans  A. पूंजीपतियों ने पैसों की वजह से सब अधिकार अपने हाथ ले लिए।  
 B. पूंजीपतियों ने पैसों की वजह से सब अधिकार प्राप्त कर लिया।  
 C. पूंजीपतियों द्वारा पैसों के कारण सब अधिकार प्राप्त कर ली।  
 D. पूंजीपतियों ने पैसों की वजह से सब अधिकार अपने हाथ ले लिए।

Question ID : 630680179311  
Status : Answered  
Chosen Option : D

Q.18 निम्न विकल्प में स्थितिवाचक अव्यय छाँटिए।

- Ans  A. आरपार, बाएँ, दाहिने  
 B. नित्य, आजकल, कभी - कभी  
 C. जहाँ, कहाँ, इधर - उधर  
 D. नीचे, ऊपर, भीतर, सामने

Question ID : 630680179356  
Status : Answered  
Chosen Option : D

Q.19 इस अर्थ से कौन - सी कहावत सूचित होती है ?  
अपने जैसे साथी मिलना -

- Ans  A. जस दूलह तस बनी बराता  
 B. दुधार गाय की लताड़ी भी भली।  
 C. ठठेरे - ठठेरे बदलौअल  
 D. दही की ओट शिकार करना

Question ID : 630680179308  
Status : Answered  
Chosen Option : C

Q.20 वर्तनी की दृष्टि से दिए गए वाक्य का कौन-सा शब्द अशुद्ध है।  
आज विख्यात कहानीकार रेणू देवी का व्याख्यान होगा।

- Ans  A. व्याख्यान  
 B. कहानीकार  
 C. रेणू  
 D. विख्यात

Question ID : 630680177057  
Status : Answered  
Chosen Option : A

**Comprehension:**

नीचे दिए गये गद्य को पढ़े और पुछे गये प्रश्नों के उत्तर दें:

स्वतंत्रता अपने - आपमें निरपेक्ष नहीं है। एक सीमा पार कर जाने के बाद स्वतंत्रता स्वेच्छाचारिता और उच्छृंखलता में बदल जाती है। एक व्यक्ति को धन कमाने की स्वतंत्रता है, पर काले बाजार की अथवा लूटने की स्वतंत्रता नहीं है। हम एक पागल को मोटर चलाने की स्वतंत्रता नहीं दे सकते, जबकि एक सामान्य नागरिक को, जो मोटर चलाना जानता है उसे मोटर चलाने का आज्ञा - पत्र प्राप्त करने में कोई कठिनाई नहीं होती। हमको लाउडस्पीकर पर गाने की स्वतंत्रता है, किंतु हमारे गाने से हमारे पड़ोसी के सोने की स्वतंत्रता नष्ट नहीं होनी चाहिए। हमें यह स्मरण रखना चाहिए कि हर स्वतंत्रता के साथ एक दायित्व का प्रश्न जुड़ा हुआ है।

**SubQuestion No : 21**

Q.21 समय आने पर स्वतंत्रता कैसे बदल जाती है ?

- Ans  A. दूसरों पर अत्याचार कर खुद खुशी से रहने में  
 B. दूसरों को शांति और सुख प्रदानकर  
 C. स्वयं अनुशासित और नियंत्रित होकर जीवन बिताने में  
 D. स्वेच्छाचारित और उच्छृंखलता में

Question ID : 630680179378  
Status : Answered  
Chosen Option : D

**Comprehension:**

नीचे दिए गये गद्य को पढ़े और पुछे गये प्रश्नों के उत्तर दे:

स्वतंत्रता अपने - आपमें निरपेक्ष नहीं है। एक सीमा पार कर जाने के बाद स्वतंत्रता स्वेच्छाचारिता और उच्छृंखलता में बदल जाती है। एक व्यक्ति को धन कमाने की स्वतंत्रता है, पर काले बाजार की अथवा लूटने की स्वतंत्रता नहीं है। हम एक पागल को मोटर चलाने की स्वतंत्रता नहीं दे सकते, जबकि एक सामान्य नागरिक को, जो मोटर चलाना जानता है उसे मोटर चलाने का आज्ञा - पत्र प्राप्त करने में कोई कठिनाई नहीं होती। हमको लाउडस्पीकर पर गाने की स्वतंत्रता है, किंतु हमारे गाने से हमारे पड़ोसी के सोने की स्वतंत्रता नष्ट नहीं होनी चाहिए। हमें यह स्मरण रखना चाहिए कि हर स्वतंत्रता के साथ एक दायित्व का प्रश्न जुड़ा हुआ है।

**SubQuestion No : 22**

Q.22 इस अवतरण का सारांश कौन से विकल्प में है ?

- Ans  A. स्वतंत्रता सभी को दी जा सकती है। वह कोई भी काम अपनी इच्छा से कर सकता है चाहे इससे दूसरों की हानि क्यों न हो।
- B. स्वतंत्रता स्वयं निरपेक्ष है। इसमें स्वेच्छाचारिता और उच्छृंखलता को महत्व दिया जाता है।
- C. स्वतंत्रता बहुमूल्य और सापेक्ष है। इसमें व्यक्ति को अच्छे काम करने की स्वतंत्रता मिलती है पर बुरे काम करने की नहीं। हमें स्वतंत्रता की मर्यादा अक्षुण्ण रखनी चाहिए।
- D. हम सदैव अपनी स्वतंत्रता पर ध्यान दें। देश की स्वतंत्रता हमारी स्वतंत्रता नहीं है। दूसरों को बाधा देने में हम स्वतंत्र हैं।

Question ID : 630680179381

Status : Answered

Chosen Option : C

**Comprehension:**

नीचे दिए गये गद्य को पढ़े और पुछे गये प्रश्नों के उत्तर दे:

स्वतंत्रता अपने - आपमें निरपेक्ष नहीं है। एक सीमा पार कर जाने के बाद स्वतंत्रता स्वेच्छाचारिता और उच्छृंखलता में बदल जाती है। एक व्यक्ति को धन कमाने की स्वतंत्रता है, पर काले बाजार की अथवा लूटने की स्वतंत्रता नहीं है। हम एक पागल को मोटर चलाने की स्वतंत्रता नहीं दे सकते, जबकि एक सामान्य नागरिक को, जो मोटर चलाना जानता है उसे मोटर चलाने का आज्ञा - पत्र प्राप्त करने में कोई कठिनाई नहीं होती। हमको लाउडस्पीकर पर गाने की स्वतंत्रता है, किंतु हमारे गाने से हमारे पड़ोसी के सोने की स्वतंत्रता नष्ट नहीं होनी चाहिए। हमें यह स्मरण रखना चाहिए कि हर स्वतंत्रता के साथ एक दायित्व का प्रश्न जुड़ा हुआ है।

**SubQuestion No : 23**

Q.23

उपरोक्त अवतरण के लिए उपयुक्त शीर्षक चुनिए।

- Ans  A. स्वतंत्रता की सीमाएँ
- B. व्यक्ति की मनोवृत्ति
- C. वैयक्तिक और सामूहिक स्वतंत्रता में अंतर
- D. स्वतंत्रता का दुरुपयोग

Question ID : 630680179382

Status : Answered

Chosen Option : A

**Comprehension:**

नीचे दिए गये गद्य को पढ़ें और पुछे गये प्रश्नों के उत्तर दें:

स्वतंत्रता अपने - आपमें निरपेक्ष नहीं है। एक सीमा पार कर जाने के बाद स्वतंत्रता स्वेच्छाचारिता और उच्छृंखलता में बदल जाती है। एक व्यक्ति को धन कमाने की स्वतंत्रता है, पर काले बाजार की अथवा लूटने की स्वतंत्रता नहीं है। हम एक पागल को मोटर चलाने की स्वतंत्रता नहीं दे सकते, जबकि एक सामान्य नागरिक को, जो मोटर चलाना जानता है उसे मोटर चलाने का आज्ञा - पत्र प्राप्त करने में कोई कठिनाई नहीं होती। हमको लाउडस्पीकर पर गाने की स्वतंत्रता है, किंतु हमारे गाने से हमारे पड़ोसी के सोने की स्वतंत्रता नष्ट नहीं होनी चाहिए। हमें यह स्मरण रखना चाहिए कि हर स्वतंत्रता के साथ एक दायित्व का प्रश्न जुड़ा हुआ है।

**SubQuestion No : 24**

Q.24 हमें क्या स्मरण रखना चाहिए ?

- Ans  A. हर स्वतंत्रता के साथ उत्तर - दायित्व जुड़ा रहना।  
 B. हर पागल को मोटर - गाड़ी चलाने का दायित्व सौंपना।  
 C. काले बाजारी करने का दायित्व देना।  
 D. दूसरे की स्वतंत्रता में बाधक बनना।

Question ID : 630680179379

Status : Answered

Chosen Option : A

**Comprehension:**

नीचे दिए गये गद्य को पढ़ें और पुछे गये प्रश्नों के उत्तर दें:

स्वतंत्रता अपने - आपमें निरपेक्ष नहीं है। एक सीमा पार कर जाने के बाद स्वतंत्रता स्वेच्छाचारिता और उच्छृंखलता में बदल जाती है। एक व्यक्ति को धन कमाने की स्वतंत्रता है, पर काले बाजार की अथवा लूटने की स्वतंत्रता नहीं है। हम एक पागल को मोटर चलाने की स्वतंत्रता नहीं दे सकते, जबकि एक सामान्य नागरिक को, जो मोटर चलाना जानता है उसे मोटर चलाने का आज्ञा - पत्र प्राप्त करने में कोई कठिनाई नहीं होती। हमको लाउडस्पीकर पर गाने की स्वतंत्रता है, किंतु हमारे गाने से हमारे पड़ोसी के सोने की स्वतंत्रता नष्ट नहीं होनी चाहिए। हमें यह स्मरण रखना चाहिए कि हर स्वतंत्रता के साथ एक दायित्व का प्रश्न जुड़ा हुआ है।

**SubQuestion No : 25**

Q.25 इस अवतरण में 'सापेक्ष' शब्द के लिए कौन - सा विलोम शब्द प्रयोग हुआ है?

- Ans  A. स्मरण  
 B. निरपेक्ष  
 C. आज्ञा - पत्र  
 D. स्वेच्छाचार

Question ID : 630680179380

Status : Answered

Chosen Option : B

Section : English Language

Q.1 Select the correctly spelt word.

- Ans  A. Calender  
 B. Cauteous  
 C. Conscience  
 D. Colleague

Question ID : 630680179460

Status : Not Answered

Chosen Option : --



Q.2 Parts of the following sentence have been given as options. Select the option that contains a spelling error.

As this business was to be entered into without the usual capital, it may not be easy to conjecture where those means that will still be indispensable to every such undertaking were to be obtained.

- Ans
- A. to every such undertaking were to be obtained
  - B. the usual capital, it may not be easy to conjecture
  - C. As this business was to be entered into without
  - D. where those means that will still be indispensable

Question ID : 630680179466

Status : Not Answered

Chosen Option : --

Q.3 Change direct speech into reported speech.

Ruchit's teacher said, "Don't run too fast."

- Ans
- A. Ruchit's teacher advised him not to run too fast.
  - B. Ruchit's teacher said to him not to run too fast.
  - C. Ruchit's teacher requested him to not run too fast.
  - D. Ruchit's teacher implored him to not run too fast.

Question ID : 630680179473

Status : Not Answered

Chosen Option : --

Q.4 Select the most appropriate adjective that can substitute the underlined word in the given sentence.

By seeking weapons of mass destruction, these regimes pose a grave and shiny danger.

- Ans
- A. growing
  - B. national
  - C. funny
  - D. tiny

Question ID : 630680177381

Status : Not Answered

Chosen Option : --

Q.5 Select the most appropriate verb that can substitute the underlined word in the given sentence.

In the long history of the world, only a few generations has been granted the role of defending freedom.

- Ans
- A. had granted
  - B. was granted
  - C. has granted
  - D. have been granted

Question ID : 630680177386

Status : Not Answered

Chosen Option : --

**Q.6** Choose the right option that can be substituted for the phrase highlighted in the given sentence.  
Except a baby carriage, rolling chair, any traveler's vehicle, bicycle is forbidden to be parked in or driven into the park.

- Ans  A. perambulator  
 B. coach  
 C. curricule  
 D. cart

Question ID : 630680179481  
Status : Not Answered  
Chosen Option : --

**Q.7** Select the appropriate option to fill in the blank.  
When my mother died in 2014, I realised how much I \_\_\_\_\_ about her life.

- Ans  A. does not know  
 B. does not knew  
 C. did not know  
 D. did not knew

Question ID : 630680179515  
Status : Not Answered  
Chosen Option : --

**Q.8** Choose the option that completes the proverb used in the following sentence.  
Junaid said that the table he made was not stable because of the wood. It is the case of a \_\_\_\_\_blaming his tools.

- Ans  A. inadep't artisan  
 B. awkward artist  
 C. poor worker  
 D. bad workman

Question ID : 630680179457  
Status : Not Answered  
Chosen Option : --

**Q.9** Select the most appropriate ANTONYM of the given word.  
Vulnerable

- Ans  A. Secure  
 B. Liable  
 C. Susceptible  
 D. Questionable

Question ID : 630680179445  
Status : Not Answered  
Chosen Option : --

Q.10 Select the most appropriate option to fill in the blanks.  
Whenever the flight attendant gives the standard safety lecture, no one pays \_\_\_\_\_, but I stop whatever I'm doing and make myself watch. I savour the part where the attendant holds up the oxygen mask and tells everyone, 'If you have small children traveling with you, be \_\_\_\_\_ to secure your oxygen mask before assisting others'.

- Ans
- A. heed; lucky
  - B. anything; certain
  - C. attention; sure
  - D. money; quick

Question ID : 630680179494  
Status : Not Answered  
Chosen Option : --

Q.11 Select the most appropriate option to fill in the blanks.  
Jesse is one of the \_\_\_\_\_ people to call when something good happens to you or to someone you love. She is there to listen to the whole story \_\_\_\_\_ delight. Often when you finish talking to her, you feel even better about what has happened, luckier \_\_\_\_\_ before.

- Ans
- A. last; of; from
  - B. few; in; then
  - C. known; at; for
  - D. first; with; than

Question ID : 630680179495  
Status : Not Answered  
Chosen Option : --

Q.12 Select the most appropriate articles to fill in the blanks.  
Chandigarh, \_\_\_\_\_ common capital of Punjab and Haryana, is called \_\_\_\_\_ City Beautiful.

- Ans
- A. the; a
  - B. a; a
  - C. the; the
  - D. a; the

Question ID : 630680179509  
Status : Not Answered  
Chosen Option : --

Q.13 Select the appropriate option to fill in the blanks.  
While many medical professionals \_\_\_\_\_ for more attention to the brewing climate health crisis, there are few action plans to \_\_\_\_\_ it.

- Ans
- A. have called; tackle
  - B. were calling; be tackled
  - C. call; have tackled
  - D. calling; tackling

Question ID : 630680179522  
Status : Not Answered  
Chosen Option : --

Q.14 Select the option that can be used as a one-word substitute for the underlined segment in the given sentence.

My sister went to study the science of mind and behaviour at Harvard University.

- Ans
- A. anthropology
  - B. psychology
  - C. genealogy
  - D. philosophy

Question ID : 630680179479  
Status : Not Answered  
Chosen Option : --

Q.15 Select the option that can be used as a one-word substitute for the given group of words.

A person who believes that there is a God

- Ans
- A. Fanatic
  - B. Devout
  - C. Theist
  - D. Atheist

Question ID : 630680179477  
Status : Not Answered  
Chosen Option : --

Q.16 Select the most appropriate synonym of the given word.

Contemptuous

- Ans
- A. Argumentative
  - B. Disdainful
  - C. Epigrammatic
  - D. Modern

INDIA

Question ID : 630680179448  
Status : Not Answered  
Chosen Option : --

Q.17 Select the most appropriate meaning of the underlined idiom.

Mr. Kundra had his heart in his boots as he thought about the long and difficult week ahead at work.

- Ans
- A. Felt enthusiastic
  - B. Prepared to be busy
  - C. Felt sad and despondent
  - D. Planned in advance

Question ID : 630680179452  
Status : Not Answered  
Chosen Option : --

Q.18 Select the most appropriate option that conveys the meaning of the words in the brackets to fill in the blanks.

He \_\_\_\_\_ (to plan a difficult activity in detail and make certain that it happens successfully) a \_\_\_\_\_ (not thinking or worrying about any pain caused to others) suppression of all opposition.

- Ans
- A. crafted; systematic
  - B. crafted; watertight
  - C. drafted; systematic
  - D. masterminded; ruthless

Question ID : 630680177370

Status : Not Answered

Chosen Option : --

Q.19 Select the most appropriate articles to fill in the blanks. In case no article is needed, select 'No article required'.

\_\_\_\_\_ affluent have an implicit responsibility to take care of \_\_\_\_\_ poor.

- Ans
- A. The; no article required
  - B. A; the
  - C. The; the
  - D. No article required; no article required

Question ID : 630680179507

Status : Not Answered

Chosen Option : --

Q.20 Select the most appropriate option that can substitute the underlined segment in the given sentence to make the sentence grammatically correct.

Nothing much is known about Durgawati's childhood and adolescence, and even historical fiction accounts start with the story to her teenage romance.

- Ans
- A. began starting with the story on
  - B. begun from the story of
  - C. begins through the story from
  - D. begin the story with

Question ID : 630680179488

Status : Not Answered

Chosen Option : --

### Comprehension:

Read the given passage and answer the questions that follow.

Tharoor systematically goes over the history of British rule in India and the adverse effects of colonialism on Indian industry and economy. He addresses each of the pro-colonial arguments-for example, that British rule brought about law and order to a nation that was ruled by debauched and/or brutal native rulers, that the Britishers actually ushered India into the modern age by building a superb rail and road network, that they put an end to heinous practices such as Sati and other sundry arguments that claim that British rule did quite a lot of good on the way to doing harm. He debunks each of these arguments.

When a child learns history in school, often it is a highly biased as well as highly abridged version. Yes, we all read about British Raj and the Indian freedom struggle. But history was not taught with a spirit of enquiry. We were never asked to argue both sides of a question. Or to think objectively about the effects of policies and actions, such as war and colonisation, upon the populations of the world.

An Era of Darkness serves as a brief guide to the entire history of British rule in India. At the same time, it gives precise information as to how the British Raj crippled India economically. Does this still affect India's current standing as an independent nation, and if so, how? And is reparation possible? These are some questions that the reader can ponder upon as s/he reads the book.

### SubQuestion No : 21

Q.21 Which of the following words can replace the word 'reparation' in the passage?

- Ans
- A. Sympathy
  - B. Vindication
  - C. Revenge
  - D. Compensation

Question ID : 630680179534

Status : Not Answered

Chosen Option : --

### Comprehension:

Read the given passage and answer the questions that follow.

Tharoor systematically goes over the history of British rule in India and the adverse effects of colonialism on Indian industry and economy. He addresses each of the pro-colonial arguments-for example, that British rule brought about law and order to a nation that was ruled by debauched and/or brutal native rulers, that the Britishers actually ushered India into the modern age by building a superb rail and road network, that they put an end to heinous practices such as Sati and other sundry arguments that claim that British rule did quite a lot of good on the way to doing harm. He debunks each of these arguments.

When a child learns history in school, often it is a highly biased as well as highly abridged version. Yes, we all read about British Raj and the Indian freedom struggle. But history was not taught with a spirit of enquiry. We were never asked to argue both sides of a question. Or to think objectively about the effects of policies and actions, such as war and colonisation, upon the populations of the world.

An Era of Darkness serves as a brief guide to the entire history of British rule in India. At the same time, it gives precise information as to how the British Raj crippled India economically. Does this still affect India's current standing as an independent nation, and if so, how? And is reparation possible? These are some questions that the reader can ponder upon as s/he reads the book.

### SubQuestion No : 22

Q.22 Which of the following CANNOT be inferred from this passage?

- Ans
- A. The British rule did India more harm than good.
  - B. There was an improvement in the Indian economic condition due to the British.
  - C. The British helped in abolishing certain social practices.
  - D. Some developmental changes were brought about by the British in India.

Question ID : 630680179533

Status : Not Answered

Chosen Option : --

### Comprehension:

Read the given passage and answer the questions that follow.

Tharoor systematically goes over the history of British rule in India and the adverse effects of colonialism on Indian industry and economy. He addresses each of the pro-colonial arguments-for example, that British rule brought about law and order to a nation that was ruled by debauched and/or brutal native rulers, that the Britishers actually ushered India into the modern age by building a superb rail and road network, that they put an end to heinous practices such as Sati and other sundry arguments that claim that British rule did quite a lot of good on the way to doing harm. He debunks each of these arguments.

When a child learns history in school, often it is a highly biased as well as highly abridged version. Yes, we all read about British Raj and the Indian freedom struggle. But history was not taught with a spirit of enquiry. We were never asked to argue both sides of a question. Or to think objectively about the effects of policies and actions, such as war and colonisation, upon the populations of the world.

An Era of Darkness serves as a brief guide to the entire history of British rule in India. At the same time, it gives precise information as to how the British Raj crippled India economically. Does this still affect India's current standing as an independent nation, and if so, how? And is reparation possible? These are some questions that the reader can ponder upon as s/he reads the book.

### SubQuestion No : 23

Q.23 What is the central theme of this passage?

- Ans
- A. History is not always correctly depicted in India.
  - B. An Era of Darkness leaves us with many questions.
  - C. No matter how much good is done by someone, one evil act spoils everything.
  - D. Tharoor's book gives a perfect overview of the British rule in India.

Question ID : 630680179530

Status : Not Answered

Chosen Option : --

### Comprehension:

Read the given passage and answer the questions that follow.

Tharoor systematically goes over the history of British rule in India and the adverse effects of colonialism on Indian industry and economy. He addresses each of the pro-colonial arguments-for example, that British rule brought about law and order to a nation that was ruled by debauched and/or brutal native rulers, that the Britishers actually ushered India into the modern age by building a superb rail and road network, that they put an end to heinous practices such as Sati and other sundry arguments that claim that British rule did quite a lot of good on the way to doing harm. He debunks each of these arguments.

When a child learns history in school, often it is a highly biased as well as highly abridged version. Yes, we all read about British Raj and the Indian freedom struggle. But history was not taught with a spirit of enquiry. We were never asked to argue both sides of a question. Or to think objectively about the effects of policies and actions, such as war and colonisation, upon the populations of the world.

An Era of Darkness serves as a brief guide to the entire history of British rule in India. At the same time, it gives precise information as to how the British Raj crippled India economically. Does this still affect India's current standing as an independent nation, and if so, how? And is reparation possible? These are some questions that the reader can ponder upon as s/he reads the book.

### SubQuestion No : 24

Q.24 Which of the following summarizes the passage in one line?

- Ans
- A. It is a detail of how Tharoor feels about British rule and its impact on India.
  - B. The passage briefly describes how Tharoor's book appropriately gives an overview of British rule in India.
  - C. The passage is about India's economy at the time of the British rule.
  - D. It is about a debate Tharoor is having with himself about the good done by the British vs. the harm

Question ID : 630680179532

Status : Not Answered

Chosen Option : --

### Comprehension:

Read the given passage and answer the questions that follow.

Tharoor systematically goes over the history of British rule in India and the adverse effects of colonialism on Indian industry and economy. He addresses each of the pro-colonial arguments-for example, that British rule brought about law and order to a nation that was ruled by debauched and/or brutal native rulers, that the Britishers actually ushered India into the modern age by building a superb rail and road network, that they put an end to heinous practices such as Sati and other sundry arguments that claim that British rule did quite a lot of good on the way to doing harm. He debunks each of these arguments.

When a child learns history in school, often it is a highly biased as well as highly abridged version. Yes, we all read about British Raj and the Indian freedom struggle. But history was not taught with a spirit of enquiry. We were never asked to argue both sides of a question. Or to think objectively about the effects of policies and actions, such as war and colonisation, upon the populations of the world.

An Era of Darkness serves as a brief guide to the entire history of British rule in India. At the same time, it gives precise information as to how the British Raj crippled India economically. Does this still affect India's current standing as an independent nation, and if so, how? And is reparation possible? These are some questions that the reader can ponder upon as s/he reads the book.

### SubQuestion No : 25

Q.25 Which of the following is NOT mentioned in the passage?

- Ans
- A. British rule negatively impacted India.
  - B. Tharoor is a systematic author who addresses all arguments one by one.
  - C. India was a much richer country before the Britishers came to India.
  - D. An era of Darkness is an informative book

Question ID : 630680179531

Status : Not Answered

Chosen Option : --

### Section : General Aptitude

Q.1 1722 में अवध के सूबेदार के रूप में किसे नियुक्त किया गया था, जिसने एक ऐसे राज्य की स्थापना की थी, जो मुगल साम्राज्य के टूटने से उभरने के लिए अत्यधिक महत्वपूर्ण था?

- Ans
- A. बुरहान-उल-मुल्क सआदत खान
  - B. अलीवर्दी खान
  - C. मुर्शिद कुली खान
  - D. निज़ाम-उल-मुल्क आसफजाह

Question ID : 630680179663

Status : Answered

Chosen Option : B

Q.2 भारत सरकार के महापंजीयक और जनगणना आयुक्त के कार्यालय - इसके मुख्यालयों के तत्वावधान में कार्यरत जनगणना संचालन निदेशालयों की कुल संख्या कितनी है?

- Ans
- A. 63
  - B. 49
  - C. 34
  - D. 43

Question ID : 630680179708

Status : Answered

Chosen Option : D



Q.3 अत्यधिक शैलीबद्ध शास्त्रीय नृत्य शैली, भरतनाट्यम किस राज्य से संबंधित है?

- Ans
- A. केरल
  - B. मध्य प्रदेश
  - C. तमिलनाडु
  - D. आंध्र प्रदेश

Question ID : 630680179677  
Status : Answered  
Chosen Option : C

Q.4 पंजाब नेशनल बैंक (PNB) के बारे में निम्नलिखित में से कौन सा कथन सही है?

- Ans
- A. PNB में खाता खोलने वाले पहले व्यक्ति लाला लाजपत राय थे।
  - B. पहले निदेशक मंडल में नौ सदस्य शामिल थे।
  - C. PNB की स्थापना 12 अप्रैल 1895 को हुई थी।
  - D. PNB ने 19 मई 1897 को अपने दरवाजे जनता के लिए खोल दिए थे।

Question ID : 630680177487  
Status : Answered  
Chosen Option : C

Q.5 भारत सरकार का घरेलू हिंसा से महिला संरक्षण अधिनियम, \_\_\_\_\_ में प्रभावी हुआ था।

- Ans
- A. 2004
  - B. 2005
  - C. 2006
  - D. 2007



INDIA

Question ID : 630680179668  
Status : Answered  
Chosen Option : C

Q.6 2022 में, निर्भया फंड योजना (Nirbhaya Fund Scheme) के तहत, सार्वजनिक सड़क परिवहन द्वारा यात्रा करने वाली महिलाओं की सुरक्षा और संरक्षा बढ़ाने के लिए, निम्नलिखित में से किस सरकारी निकाय की परियोजना को आर्थिक मामलों के विभाग, वित्त मंत्रालय द्वारा अनुमोदित नहीं किया गया था?

- Ans
- A. ग्रेटर हैदराबाद नगर निगम
  - B. आंध्र प्रदेश सरकार
  - C. बेंगलूर महानगर परिवहन निगम
  - D. उत्तर प्रदेश राज्य सड़क परिवहन निगम

Question ID : 630680177437  
Status : Answered  
Chosen Option : D

Q.7 वोल्फगैंग पाउली ने किस वर्ष इलेक्ट्रॉन के साथ-साथ  $\beta$ -क्षय में उत्सर्जित एक नए कण (जिसे अब न्यूट्रिनो कहा जाता है) के अस्तित्व की सही भविष्यवाणी की थी?

- Ans  A. 1931  
 B. 1942  
 C. 1937  
 D. 1926

Question ID : 630680177511  
Status : Not Answered  
Chosen Option : --

Q.8 भारत में वर्तमान (2022) प्रति व्यक्ति वाणिज्यिक प्राथमिक ऊर्जा खपत कितनी है?

- Ans  A. 550 kgoe/ वर्ष  
 B. 150 kgoe/ वर्ष  
 C. 450 kgoe/ वर्ष  
 D. 350 kgoe/वर्ष

Question ID : 630680179712  
Status : Not Answered  
Chosen Option : --

Q.9 हडप्पा स्थलों में निम्नलिखित में से किस जंतु की अस्थियां (bones) नहीं पाई गई थी?

- Ans  A. मवेशी  
 B. बकरी  
 C. शेर  
 D. भेड़



INDIA

Question ID : 630680179674  
Status : Answered  
Chosen Option : C

Q.10 उष्णकटिबंधीय सवाना जलवायु क्षेत्र निम्नलिखित में से किस राज्य से संबंधित है?

- Ans  A. हिमाचल प्रदेश  
 B. राजस्थान  
 C. पंजाब  
 D. महाराष्ट्र

Question ID : 630680179704  
Status : Answered  
Chosen Option : A

Q.11 'दांडी यात्रा (Salt March)' शुरू करने से पहले गांधी जी ने निम्नलिखित में से किस वायसराय को अग्रिम सूचना दी थी?

- Ans  A. लॉर्ड रीडिंग (Lord Reading)  
 B. लॉर्ड इरविन (Lord Irwin)  
 C. लॉर्ड विलिंग्डन (Lord Willingdon)  
 D. लॉर्ड चेम्सफोर्ड (Lord Chelmsford)

Question ID : 630680179670  
Status : Answered  
Chosen Option : B

Q.12 देश में मैंगनीज़ अयस्क का सबसे बड़ा उत्पादक, मैंगनीज़ ओरे इंडिया लिमिटेड (MOIL) घरेलू उत्पादन में लगभग कितने प्रतिशत का योगदान देता है?

- Ans  A. 54%  
 B. 60%  
 C. 24%  
 D. 45%

Question ID : 630680179702  
Status : Not Answered  
Chosen Option : --

Q.13 निम्नलिखित में से कौन न्यायिक नियुक्तियों की प्रक्रिया में भाग लेता है?

- Ans  A. सभी मंत्रिपरिषद, राज्यपाल और मुख्यमंत्री और भारत के मुख्य न्यायाधीश  
 B. केवल भारत के राज्यपाल और मुख्य न्यायाधीश  
 C. केवल भारत के मुख्य न्यायाधीश  
 D. केवल भारत की मंत्रिपरिषद और मुख्यमंत्री

Question ID : 630680179734  
Status : Answered  
Chosen Option : C

Q.14 भारत का 29 दिसंबर, 2022 से किस देश के साथ आर्थिक सहयोग और व्यापार समझौता लागू हो गया है?

- Ans  A. न्यूज़ीलैंड  
 B. ऑस्ट्रेलिया  
 C. कनाडा  
 D. अमेरिका

Question ID : 630680179691  
Status : Answered  
Chosen Option : B

Q.15 दिसंबर 2022 में, किस भारतीय प्रौद्योगिकी संस्थान को व्हार्टन-क्यूएस रीडमैजिन एजुकेशन अवार्ड्स (USA) से सम्मानित किया गया था?

- Ans  A. आईआईटी-दिल्ली  
 B. आईआईटी-रूड़की  
 C. आईआईटी-मद्रास  
 D. आईआईटी-मुंबई

Question ID : 630680179644  
Status : Not Answered  
Chosen Option : --

Q.16 STP पर, एक आदर्श गैस का मोलर आयतन या आदर्श गैसों का संयोजन \_\_\_\_\_ होता है।

- Ans  A.  $24.5 \text{ L mol}^{-1}$   
 B.  $22.4 \text{ L mol}^{-1}$   
 C.  $27.7 \text{ mol}^{-1}$   
 D.  $26.6 \text{ L mol}^{-1}$

Question ID : 630680179725  
Status : Not Answered  
Chosen Option : --

Q.17 जनवरी 2023 में, निम्नलिखित में से किसने जिला स्तरीय शिकायत निवारण मंच 'निधि आपके निकट 2.0' का शुभारंभ किया है?

- Ans  A. गृह मंत्रालय  
 B. श्रम एवं रोजगार मंत्रालय  
 C. रसायन मंत्रालय  
 D. रक्षा मंत्रालय

INDIA

Question ID : 630680179656  
Status : Answered  
Chosen Option : A

Q.18 संगीत समय की गति (tempo) को लय (Laya) के रूप में जाना जाता है। हिन्दुस्तानी संगीत में लय कितने प्रकार के होते हैं?

- Ans  A. 1  
 B. 3  
 C. 2  
 D. 4

Question ID : 630680179681  
Status : Answered  
Chosen Option : D

Q.19 हमारे स्वतंत्रता संग्राम के दौरान स्वतंत्रता आंदोलन के नेताओं ने मांग की थी कि ब्रिटिश शासकों को लोगों के अधिकारों का सम्मान करना चाहिए। मोतीलाल नेहरू समिति ने बहुत पहले \_\_\_\_\_ में अधिकार विधेयक की मांग की थी।

- Ans
- A. 1924
  - B. 1925
  - C. 1957
  - D. 1928

Question ID : 630680179728  
Status : Answered  
Chosen Option : A

Q.20 जनवरी 2023 तक प्राप्त जानकारी के अनुसार, निक्केई एशिया की रिपोर्ट के मुताबिक, कौन-सा देश विश्व का तीसरा सबसे बड़ा ऑटो बाजार बन गया है?

- Ans
- A. चीन
  - B. भारत
  - C. अमेरिका
  - D. जापान

Question ID : 630680179646  
Status : Answered  
Chosen Option : B

Q.21 जनवरी 2022 में, कौन-सा राज्य भारत का पहला पूर्ण डिजिटल बैंकिंग राज्य बन गया था?

- Ans
- A. तमिलनाडु
  - B. केरल
  - C. गुजरात
  - D. उत्तर प्रदेश

INDIA

Question ID : 630680179694  
Status : Answered  
Chosen Option : B

Q.22 दिसंबर 2022, में दक्षिण कोरिया में पहली बार 'मस्तिष्क-भक्षी' अमीबा के कारण किसी व्यक्ति की मृत्यु हुई थी। अमीबा के बारे में निम्नलिखित में से कौन-सा कथन सत्य नहीं है?

- Ans
- A. इसमें केंद्रक नहीं होता है।
  - B. यह एक प्रोटोजोआ है।
  - C. यह एक कोशिकीय होता है।
  - D. यह अपना आकार बदल सकता है।

Question ID : 630680179717  
Status : Answered  
Chosen Option : C

Q.23 जब स्वरों को उनकी निर्दिष्ट श्रुतियों पर रखा जाता है , तो वे क्या कहलाते हैं?

- Ans  A. शुद्ध स्वर  
 B. अशुद्ध स्वर  
 C. तीव्र स्वर  
 D. संशोधित स्वर

Question ID : 630680179686  
Status : Answered  
Chosen Option : D

Q.24 15 फरवरी, 2022 तक प्राप्त जानकारी के अनुसार, भारत के सर्वोच्च न्यायालय में वर्तमान में कितनी महिला माननीय न्यायाधीश हैं?

- Ans  A. 4  
 B. 1  
 C. 3  
 D. 2

Question ID : 630680179730  
Status : Answered  
Chosen Option : C

Q.25 रणजी ट्रॉफी के पहले ही ओवर में हैट्रिक लेकर इतिहास रचने वाले जयदेव उनादकट किस टीम के लिए खेलते हैं?

- Ans  A. गुजरात  
 B. दिल्ली  
 C. गोवा  
 D. सौराष्ट्र



INDIA

Question ID : 630680179660  
Status : Not Answered  
Chosen Option : --

Section : General Intelligence

Q.1 चार शब्द-युग्म दिए गए हैं, जिनमें से तीन किसी प्रकार से एकसमान हैं और एक असंगत है। उस असंगत शब्द-युग्म का चयन करें।

- Ans  A. पुस्तक : अध्याय  
 B. मक्खन : दूध  
 C. कमरा : खिड़की  
 D. पंखा : ब्लेड

Question ID : 630680173431  
Status : Answered  
Chosen Option : B

Q.2 छह कार्यक्रम P, Q, R, S, T और U सोमवार से शुरू होने वाले एक सप्ताह में आयोजित होने वाले हैं, जरूरी नहीं कि इसी क्रम में हों। रविवार को छुट्टी है। कार्यक्रम P, कार्यक्रम S के ठीक बाद, लेकिन कार्यक्रम R और कार्यक्रम T से पहले आयोजित किया जाएगा। कार्यक्रम S मंगलवार को निर्धारित है। कार्यक्रम Q, कार्यक्रम R और कार्यक्रम T के बीच आयोजित किया जाएगा। कार्यक्रम R सप्ताह के अंतिम दिन में आयोजित नहीं किया जाएगा। कार्यक्रम R सप्ताह के किस दिन आयोजित किया जाएगा?

- Ans
- A. गुरुवार
  - B. शुक्रवार
  - C. बुधवार
  - D. सोमवार

Question ID : 630680177575  
Status : Answered  
Chosen Option : A

Q.3 दिए गए डेटा को पढ़ें और नीचे दिए गए प्रश्न का उत्तर दें।

- बादल, आनंद का भाई है।
- सुषमा, बादल की बहन है।
- ईशान, दुर्गा का भाई है।
- दुर्गा, आनंद की पुत्री है।
- फरहान, सुषमा का पिता है।

ईशान के पिता का भाई कौन है?

- Ans
- A. बादल
  - B. फरहान
  - C. सुषमा
  - D. आनंद

Question ID : 630680177614  
Status : Answered  
Chosen Option : A

Q.4 एक निश्चित कूट भाषा में, "SABOLA" को "TYCMMY" लिखा जाता है। उस भाषा में "UGLILY" को कैसे लिखा जाएगा?

- Ans
- A. VEMGMW
  - B. VEGMMW
  - C. WMGMEV
  - D. VEMGWM

Question ID : 630680176427  
Status : Answered  
Chosen Option : A

Q.5 निम्नलिखित अक्षर-संख्या स्ट्रिंग में बाएं से दाएं ऐसी कितनी संख्याएं हैं, जिनमें से प्रत्येक के तुरंत बाद एक स्वर और ठीक पहले एक व्यंजन है?

(बाएं) L 8 K J H Y 8 G 5 6 A T R 7 K 2 U Z A W G P 2 M 7 E N 3 B V C X E 9 W 2 A Q (दाएं)

(नोट- प्रत्येक संख्या एक अंक की संख्या है)

- Ans
- A. तीन
  - B. चार
  - C. दो
  - D. पांच

Question ID : 630680173400

Status : Answered

Chosen Option : A

Q.6 चार अक्षर-समूह दिए गए हैं, जिनमें से तीन किसी प्रकार से एकसमान हैं और एक असंगत है। उस असंगत अक्षर-समूह का चयन करें।

- Ans
- A. CDFIM
  - B. QRTWA
  - C. GHJMQ
  - D. AWXGI

Question ID : 630680176450

Status : Answered

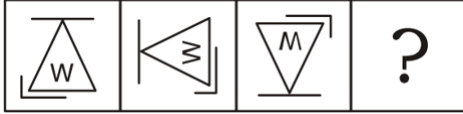
Chosen Option : D



INDIA



Q.7 दिए गए विकल्पों में से उस आकृति का चयन करें जो निम्नलिखित श्रृंखला में प्रश्नवाचक चिह्न (?) को प्रतिस्थापित कर सकती है।

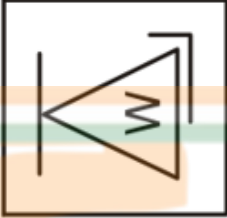


Ans

✓ A.



✗ B.



✗ C.



✗ D.

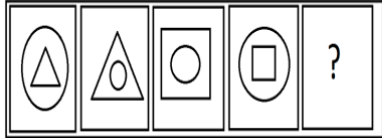


Question ID : 630680173435

Status : Answered


Chosen Option : A

Q.8 दिए गए विकल्पों में से उस आकृति का चयन करें, जो निम्नलिखित श्रृंखला में प्रश्नवाचक चिन्ह (?) को प्रतिस्थापित कर सकती है।

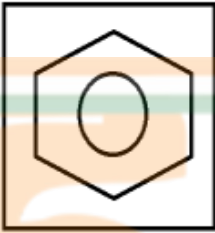


Ans

✓ A.



✗ B.



✗ C.



✗ D.



Question ID : 630680177634

Status : Answered

Chosen Option : D

Q.9 निम्नलिखित श्रृंखला में बाएं छोर से गिनती करते हुए कितनी विषम संख्याओं के बाद सम संख्याएं हैं लेकिन विषम संख्या से पहले नहीं हैं?

(बाएं) 9 7 6 5 7 9 7 6 0 7 8 9 2 4 5 6 7 3 3 3 4 6 7 3 8 4 2 1 2 4 5 2 1 6 7 8 6 5 4 3 8 (दाएं)

Ans

✓ A. 9

✗ B. 8

✗ C. 10

✗ D. 7

Question ID : 630680177597

Status : Answered

Chosen Option : D

Q.10 निम्न विकल्प आकृतियों में से प्रश्न आकृति का जल में निर्मित सही प्रतिबिम्ब चयनित करें।



Ans

✗ A.



✗ B.



✓ C.



✗ D.



Question ID : 630680173441

Status : Answered

Chosen Option : C

Q.11 दिए गए डेटा को पढ़िए और नीचे दिए गए प्रश्न का उत्तर दीजिए।

समूह में छह मित्र हैं।

- विजय, मनोहर से बड़ा है लेकिन राजू जितना बड़ा नहीं है।
- जयंत, दत्ता से बड़ा है लेकिन मनोहर से छोटा है।
- राकेश, विजय से बड़ा है लेकिन सबसे बड़ा नहीं है

समूह में सबसे बड़ा कौन है?

- Ans
- A. राकेश
  - B. दत्ता
  - C. राजू
  - D. विजय

Question ID : 630680177583

Status : Answered

Chosen Option : C

Q.12 दिए गए विकल्पों में से उस शब्द का चयन करें, जो निम्नलिखित श्रृंखला में प्रश्न चिह्न (?) को प्रतिस्थापित कर सकता है।

UH93, RL87, OP79, LT69, ?

- Ans
- A. IX57
  - B. IY56
  - C. JY59
  - D. JW59

INDIA

Question ID : 630680176444

Status : Answered

Chosen Option : A

Q.13 दिए गए विकल्पों में से उस पद का चयन करें, जो निम्नलिखित श्रृंखला में प्रश्नवाचक चिह्न (?) को प्रतिस्थापित कर सकता है।

25K, 25S, 30L, 40R, 55M, 75Q, 100N, ?

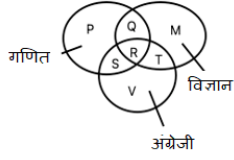
- Ans
- A. 130P
  - B. 125L
  - C. 130M
  - D. 125O

Question ID : 630680173392

Status : Answered

Chosen Option : A

Q.14 नीचे दी गई आकृति में तीन प्रतिच्छेदी वृत्त हैं, जिनमें से प्रत्येक बच्चों द्वारा चुने गए विषयों को दर्शाता है। चुने गए विषयों के विभिन्न संयोजनों को P से V तक के अक्षरों द्वारा चिह्नित किया गया है। कथनों को पढ़िए और कथन को सही से दर्शाने वाले संयोजन के अक्षर का चयन कीजिए। कौन से अक्षर गणित और विज्ञान दोनों को दर्शाते हैं, लेकिन अंग्रेजी को नहीं?




- Ans
- A. T
  - B. P
  - C. U
  - D. Q

Question ID : 630680176406  
Status : Answered  
Chosen Option : D

Q.15 विद्यार्थियों की एक पंक्ति में, एनी बाएँ से 24वें और दाएँ से 25वें स्थान पर है। पंक्ति में कुल कितने छात्र हैं?

- Ans
- A. 46
  - B. 48
  - C. 49
  - D. 47



INDIA

Question ID : 630680176397  
Status : Answered  
Chosen Option : B

Q.16 यदि  
K @ M का अर्थ है कि 'K, M का पिता है'  
K + M का अर्थ है कि 'K, M का भाई है'  
K - M का अर्थ है कि 'K, M की माता है'  
K = M का अर्थ है कि 'K, M की बेटी है'  
G @ H + Q = T - R, H और R के किस रिश्ते को दर्शाता है?

- Ans
- A. मां
  - B. चाचा/मामा
  - C. भाई
  - D. बहन

Question ID : 630680176437  
Status : Answered  
Chosen Option : C

Q.17 पांच दोस्तों अब्दुल्ला, बादल, रोहित, दौलत और ताहिर की एक ही बाजार में दुकानें हैं। ताहिर की दुकान, बादल की दुकान से 10 m दक्षिण-पूर्व में है, जो दौलत की दुकान से 8 m पश्चिम में है। रोहित की दुकान, दौलत की दुकान के 6 m उत्तर में है, जो ताहिर की दुकान के उत्तर में भी है। अब्दुल्ला की दुकान, बादल की दुकान के 6 m उत्तर में है। रोहित और अब्दुल्ला की दुकान के बीच की दूरी कितनी है?

- Ans  A. 8 m  
 B. 6 m  
 C. 12 m  
 D. 10 m

Question ID : 630680177607

Status : Answered

Chosen Option : A

Q.18 इस प्रश्न में, नीचे दिए गए कूट और उनके बाद दी गई शर्तों के अनुसार, अक्षर कूटों का उपयोग करके संख्या/प्रतीक के एक समूह को कूटबद्ध किया जाता है। कूट का (केवल लागू होने वाली शर्तों का पालन करते हुए) सही संयोजन ही आपका उत्तर है।

अंक	2	4	7	6	5	9	8	3
कूट	A	K	=	-	%	+	*	L

शर्तें:

- यदि पहला और अंतिम अंक विषम हैं तो दोनों को "M" के रूप में कूटबद्ध किया जाएगा।
- यदि पहला और अंतिम अंक सम हैं तो दोनों को "Q" के रूप में कूटबद्ध किया जाएगा।
- 3 7 5 2 8 9 3 4 7 का कूट जात कीजिए।

- Ans  A. M K L + \* A % = M  
 B. Q K L + \* A % = Q  
 C. Q = % A \* + L K Q  
 D. M = % A \* + L K M

Question ID : 630680176431

Status : Answered

Chosen Option : D

Q.19 नौ मित्र A, B, C, D, E, F, I, G और H एक पंक्ति में निम्न प्रकार से उत्तर की ओर अभिमुख होकर बैठे हैं।

- A और I अंतिम छोर पर बैठे हैं।
- C, A के दाएं से तीसरे स्थान पर बैठा है।
- C और G के बीच ठीक दो व्यक्ति हैं।
- B, E के बाएं से दूसरे स्थान पर बैठा है, जो पंक्ति के ठीक बीच में है।
- D और H के बीच ठीक पांच मित्र बैठे हैं।
- F, H के बाएं से दूसरे स्थान पर बैठा है।
- C के दाएं से चौथे स्थान पर कौन बैठा है?

- Ans  A. H  
 B. A  
 C. I  
 D. G

Question ID : 630680177569

Status : Answered

Chosen Option : A

Q.20 पांच लड़के A, B, D, E और F एक सीधी पंक्ति में उत्तर की ओर अभिमुख होकर बैठे हैं। D और E के बीच A बैठा है। B और A के बीच D बैठा है। A और F के बीच E बैठा है। मध्य में कौन बैठा है?

- Ans
- A. D
  - B. B
  - C. A
  - D. E

Question ID : 630680176394

Status : Answered

Chosen Option : C

Q.21 दिए गए विकल्पों में से उस संख्या का चयन कीजिए जो निम्नलिखित श्रृंखला में प्रश्न चिह्न (?) को प्रतिस्थापित कर सकती है।  
225, 256, 289, 324, 361, ?

- Ans
- A. 390
  - B. 400
  - C. 410
  - D. 378

Question ID : 630680176470

Status : Answered

Chosen Option : B

Q.22 दिए गए विकल्पों में से उस संख्या का चयन कीजिए जो निम्नलिखित श्रृंखला में प्रश्न चिह्न (?) को प्रतिस्थापित कर सकती है।  
2, 6, 8, 14, 22, 36, ?

- Ans
- A. 56
  - B. 60
  - C. 58
  - D. 62

Question ID : 630680176475

Status : Not Answered

Chosen Option : --

Q.23 गणितीय चिन्हों के सही संयोजन का चयन करें, जो क्रमिक रूप से \* चिन्हों को प्रतिस्थापित कर सकता है और दिए गए समीकरण को संतुलित कर सकता है।

$$437 * 19 * 67 * 37 * 13 * 391$$

- Ans
- A. +, ÷, =, ×, -
  - B. -, ÷, =, +, ×
  - C. ÷, +, =, ×, -
  - D. ×, ÷, +, -, =

Question ID : 630680177657

Status : Answered

Chosen Option : C

Q.24 यदि '+' का अर्थ 'x' है, '-' का अर्थ '/' है, 'x' का अर्थ '+' है और '/' का अर्थ '-' है, तो बताइए कि कौन सा व्यंजक सही है।

- Ans
- A.  $30 \times 6 \div 5 - 2 + 7 = 20$
  - B.  $30 \div 6 \times 5 + 2 - 7 = 20$
  - C.  $30 - 6 + 5 \times 2 \div 7 = 20$
  - D.  $30 + 6 - 5 \div 2 \times 7 = 20$

Question ID : 630680173463

Status : Answered

Chosen Option : C

Q.25 जब दर्पण को MN पर रखा जाता है, तो दी गई आकृति का दर्पण में निर्मित सही प्रतिबिंब चयनित करें।

CS62L

- Ans
- A.
  - B.
  - C.
  - D.

Question ID : 630680176463

Status : Answered

Chosen Option : A

Section : Quantitative Aptitude

Q.1 दो उम्मीदवारों के बीच किसी चुनाव में, 10% लोगों ने अपना मत नहीं डाला और डाले गए 10% मतों को अवैध घोषित कर दिया गया। जीतने वाले उम्मीदवार को वैध मतों के 52% मत प्राप्त हुए, और वह 1701 मतों के बहुमत से जीता। नामांकित मतदाताओं की संख्या ज्ञात कीजिए।

- Ans
- A. 54,700
  - B. 55,300
  - C. 52,500
  - D. 53,800

Question ID : 630680179571

Status : Answered

Chosen Option : C



Q.2 आशा और लता, एक साथ मिलकर किसी कार्य को  $25\frac{5}{7}$  दिन में पूरा कर सकती हैं। लता और सीता, एक साथ मिलकर उसी कार्य को 36 दिन में पूरा कर सकती हैं। आशा, सीता से दो गुना कुशल है। जात कीजिए कि तीनों एक साथ मिलकर उस कार्य को कितने दिन में पूरा कर सकती हैं।

- Ans
- A. 15 दिन
  - B. 20 दिन
  - C. 22 दिन
  - D. 25 दिन

Question ID : 630680179604  
Status : Not Answered  
Chosen Option : --

Q.3 निम्नलिखित तालिका वर्ष 2022-23 में किसी महाविद्यालय के विभिन्न स्नातक पाठ्यक्रमों में प्रवेश पाने वाले विद्यार्थियों की संख्या दर्शाती है।

वाणिज्य और मानविकी में विद्यार्थियों तथा गणित और विज्ञान में विद्यार्थियों का अनुपात जात कीजिए।

पाठ्यक्रम	विद्यार्थियों की संख्या
अंग्रेजी	354
गणित	286
विज्ञान	546
वाणिज्य	964
मानविकी	220

- Ans
- A. 34 : 25
  - B. 37 : 26
  - C. 39 : 22
  - D. 43 : 31

Question ID : 630680179612  
Status : Answered  
Chosen Option : B

Q.4 20% छूट देने के बाद भी, किसी व्यापारी को 8% का लाभ होता है। यदि दी गई छूट ₹40.50 है, तो क्रय मूल्य (₹ में) जात कीजिए।

- Ans
- A. 162
  - B. 150
  - C. 180
  - D. 135

Question ID : 630680179579  
Status : Answered  
Chosen Option : B

Q.5 यदि  $3^x = 9^y = 27^z$  है और  $\frac{1}{3x} + \frac{1}{6y} + \frac{1}{9z} = \frac{32}{3}$  है, तो  $z$  का मान ज्ञात कीजिए।

- Ans
- A.  $\frac{5}{8}$
  - B.  $\frac{8}{5}$
  - C.  $\frac{1}{32}$
  - D.  $\frac{1}{5}$

Question ID : 630680179620

Status : Not Answered

Chosen Option : --

Q.6 एक समद्विबाहु त्रिभुज में, यदि समान भुजाओं में से एक भुजा और एक असमान भुजा का अनुपात 6 : 11 है और इसका परिमाण 46 cm है। त्रिभुज का लगभग क्षेत्रफल ( $\text{cm}^2$  में) कितना है?

- Ans
- A. 57
  - B. 49
  - C. 53
  - D. 64

Question ID : 630680178032

Status : Answered

Chosen Option : D

Q.7 किसी वर्गाकार मैदान का क्षेत्रफल  $4489 \text{ m}^2$  है, मैदान का परिमाण (cm में) ज्ञात कीजिए।

- Ans
- A. 268
  - B. 284
  - C. 290
  - D. 272

Question ID : 630680179550

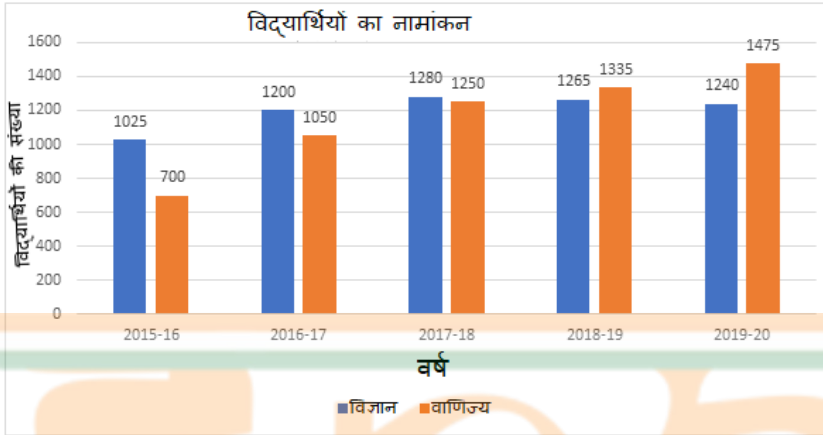
Status : Answered

Chosen Option : A

Q.8

निम्नलिखित लेखाचित्र, 5 शैक्षणिक वर्षों में किसी महाविद्यालय के दो विषय-वर्गों(streams) में विद्यार्थियों का प्रवेश दर्शाता है।

2016-17 और 2018-19 में वाणिज्य के विद्यार्थियों के योगफल तथा 2015-16 और 2019-20 में विज्ञान के विद्यार्थियों के योगफल का अनुपात ज्ञात कीजिए।



- Ans
- A. 297 : 364
  - B. 478 : 453
  - C. 159 : 151
  - D. 98 : 101

Question ID : 630680179616

Status : Answered

Chosen Option : C

Q.9 21 cm त्रिज्या के वृत्ताकार पिज्जा से पिज्जा का एक त्रिज्यखंड काटा जाता है, त्रिज्यखंड का कोण  $120^\circ$  है। यदि पिज्जा के त्रिज्यखंड के समान क्षेत्रफल का एक और पिज्जा बनाया जाता है, तो नए पिज्जा का व्यास (cm में) क्या होगा?

- Ans
- A.  $7\sqrt{3}$
  - B.  $14\sqrt{3}$
  - C.  $12\sqrt{3}$
  - D.  $16\sqrt{3}$

Question ID : 630680178038

Status : Not Answered

Chosen Option : --

Q.10 चार व्यक्ति, A, B, C और D, 6 km लंबाई वाले वृत्ताकार ट्रैक पर दौड़ना शुरू करते हैं। उनकी चाल क्रमशः 3 km/h, 3.5 km/h, 4 km/h और 4.5 km/h है। यदि सभी एक ही बिंदु से एक साथ एक ही दिशा में दौड़ना शुरू करते हैं, तो जब वे पहली बार प्रारंभिक बिंदु पर मिलते हैं, तो B ने कितने चक्कर लगाए होंगे?

- Ans
- A. 4
  - B. 12
  - C. 9
  - D. 7


Question ID : 630680179555

Status : Answered

Chosen Option : D

Q.11 कुश अपनी यात्रा का x% भाग, 50 km/h की चाल से तय करता है और शेष भाग 60 km/h की चाल से तय करता है। x के संदर्भ में उसकी औसत चाल ज्ञात कीजिए।

- Ans
- A.  $\frac{30000}{x + 500}$
  - B.  $\frac{300}{x + 50}$
  - C.  $\frac{60 - x}{5}$
  - D.  $\frac{x + 50}{6}$

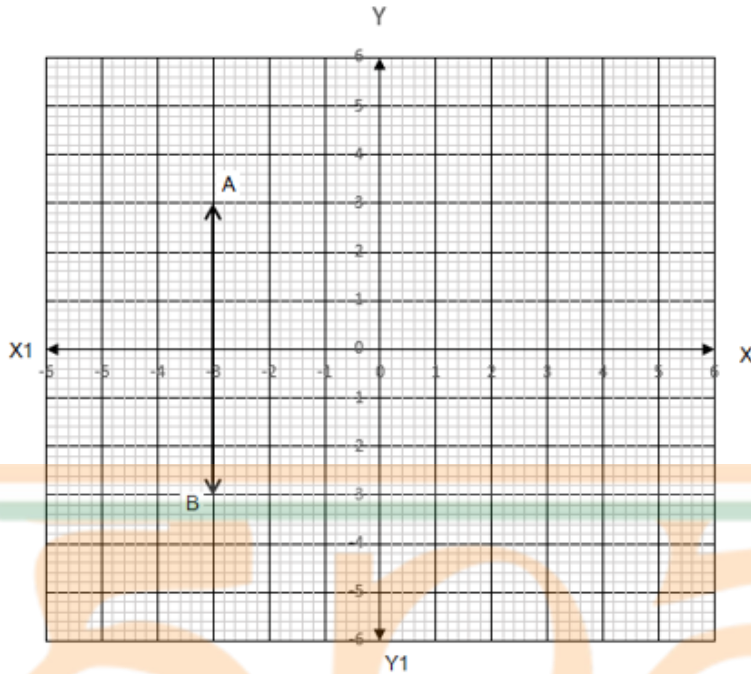


Question ID : 630680179562

Status : Not Answered

Chosen Option : --

Q.12 नीचे दिए गए लेखाचित्र में, रेखा AB क्या निरूपित करती है?



- Ans
- A.  $x = 3$
  - B.  $x + 3 = 0$
  - C.  $y = 2$
  - D.  $y + 2 = 0$

Question ID : 630680179623

Status : Answered

Chosen Option : B

Q.13  $\frac{0.1667 \times 0.8333 \times 0.5555}{0.3333 \times 0.6667 \times 0.25}$  का मान ज्ञात कीजिए (लगभग)।

- Ans
- A. 1.2
  - B. 1.4
  - C. 1.5
  - D. 1.3

Question ID : 630680179554

Status : Not Answered

Chosen Option : --

Q.14 किसी त्रिभुजाकार खेत का आधार, उसकी ऊंचाई का तीन गुना है। यदि ₹24.4/hect की दर से खेत को जोतने की लागत ₹448.35 है, तो इसकी ऊंचाई (m में) ज्ञात कीजिए।

- Ans
- A. 275
  - B. 240
  - C. 350
  - D. 320

Question ID : 630680179628  
Status : Not Answered  
Chosen Option : --

Q.15 150 km/h की चाल से चलने वाली 360 m लंबी एक रेलगाड़ी, विपरीत दिशा में 90 km/h की चाल से चलने वाली दूसरी रेलगाड़ी को 12 sec में पार करती है। दूसरी रेलगाड़ी की लंबाई (m में) कितनी है?

- Ans
- A. 500
  - B. 400
  - C. 350
  - D. 440

Question ID : 630680179599  
Status : Answered  
Chosen Option : D

Q.16 एक टिन में 8 kg कच्चे चावल और 32 kg उबले हुए चावल मिलाए जाते हैं। कच्चे चावल का प्रतिशत क्या है?

- Ans
- A. 20%
  - B. 25%
  - C. 15%
  - D. 18%

Question ID : 630680177968  
Status : Answered  
Chosen Option : A

Q.17 H, J और L, अलग-अलग किसी कार्य को क्रमशः 120 दिन, 40 दिन और 60 दिन में पूरा करते हैं। यदि वे H से शुरू करते हुए, समान क्रम में बारी-बारी से काम करते हैं, तो कार्य का  $\frac{2}{5}$  भाग पूरा होने में कितने दिन लगेंगे?

- Ans
- A. 24
  - B. 28
  - C. 20
  - D. 32

Question ID : 630680179607  
Status : Answered  
Chosen Option : A

Q.18 दो संख्याओं का अनुपात 3 : 7 है और उनका अंतर 72 है। छोटी संख्या ज्ञात कीजिए।

- Ans
- A. 54
  - B. 45
  - C. 36
  - D. 27

Question ID : 630680179582  
Status : Answered  
Chosen Option : A

Q.19 एक क्रिकेट मैदान का क्षेत्रफल 5400 वर्ग गज है। यदि पूरे मैदान में 200 kg उर्वरक एकसमान रूप से फैलाया जाता है, तो 2700 वर्ग गज के कुल क्षेत्रफल वाले मैदान में कितने kg उर्वरक फैलाया गया?

- Ans
- A. 150
  - B. 100
  - C. 200
  - D. 250

Question ID : 630680177986  
Status : Answered  
Chosen Option : B

Q.20 ₹8,000 की राशि पर, x% वार्षिक दर से 2 वर्ष का चक्रवृद्धि ब्याज ₹988.80 है। x का मान ज्ञात कीजिए।

- Ans
- A. 7
  - B. 6
  - C. 8
  - D. 5

Question ID : 630680179592  
Status : Answered  
Chosen Option : B

Q.21 कोई कार, 84 km/h की चाल से शहर A से शहर B तक जाती है और 56 km/h की चाल से शहर B से शहर A तक जाती है। कार की औसत चाल (km/h में) ज्ञात कीजिए।

- Ans
- A. 68.4
  - B. 68.1
  - C. 67.2
  - D. 67.6

Question ID : 630680179561  
Status : Answered  
Chosen Option : C

Q.22 ₹x की राशि पर,  $7\frac{2}{3}\%$  की दर से  $2\frac{1}{2}$  वर्ष का साधारण ब्याज ₹862.50 है। x का मान ज्ञात कीजिए।

- Ans
- A. ₹4,500
  - B. ₹3,875
  - C. ₹2,850
  - D. ₹3,200

Question ID : 630680179588  
Status : Answered  
Chosen Option : A

Q.23 यदि (1, 1, a), त्रिभुज के तीन शीर्ष (1, 2, -3), (b, 0, 1), (-1, 1, -4) से बने त्रिभुज का केन्द्रक है, तो a + b का मान ज्ञात कीजिए।

- Ans
- A. 2
  - B. -1
  - C. -2
  - D. 1

Question ID : 630680179640  
Status : Answered  
Chosen Option : C

Q.24 जेम्स, 25% के लाभ पर हेडसेट्स बेचता है। बाद में, वह एक थोक व्यापारी से मिलता है, जो क्रय मूल्य से 10% कम मूल्य पर हेडसेट्स की आपूर्ति करने के लिए तैयार है। जेम्स विक्रय मूल्य में भी ₹54 की कमी करता है, लेकिन फिर भी उसे 30% का लाभ होता है। मूल क्रय मूल्य (₹ में) ज्ञात कीजिए।

- Ans
- A. 650
  - B. 725
  - C. 700
  - D. 675

Question ID : 630680179575  
Status : Not Answered  
Chosen Option : --



Q.25 यदि कोई बस 40 km/h की चाल से चलती है, तो वह गंतव्य स्थान पर 11 min देरी से पहुंचती है, लेकिन यदि इसकी चाल में 14 km/h की वृद्धि होती है, तो यह गंतव्य स्थान पर 6 min देरी से पहुंचती है। यात्रा पूरी करने के लिए बस का सामान्य समय (min में) ज्ञात कीजिए।

Ans

A.  $9\frac{8}{11}$

B.  $9\frac{3}{8}$

C.  $8\frac{2}{7}$

D.  $8\frac{7}{9}$

Question ID : 630680179595

Status : Answered

Chosen Option : C

